

نام و نام خانوادگی :

اداره آموزش و پرورش استان خوزستان

تهیه و تدوین: فاطمه روشن بین

شهرستان بهبهان

تاریخ: / / ۱۳۹۵

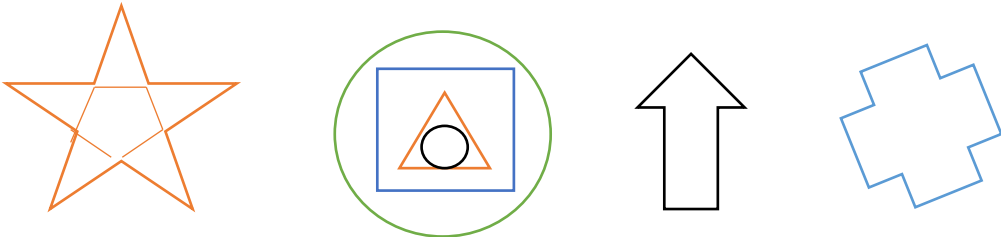

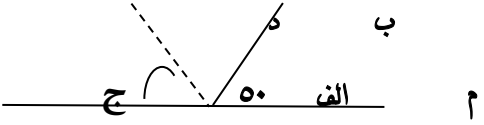
ارزشیابی: ریاضی فصل چهارم


دبستان شاهد امام کاظم (ع)

با سپاس از استاد مسلم طیبی

پایه ی: پنجم

مدرس کشوری و سرگروه پنجم

ردیف	شرح سوالات
۱	<p>عزیزانم !!!! خط های تقارن شکل های زیر را رسم کنید.</p> 
۲	<p>نسبت تعداد خط های تقارن مثلث متساوی الساقین به تعداد خط های تقارن مربع چند است؟</p>
۳	<p>کدام یک از شکل های زیر فقط یک خط تقارن دارد؟ آن را مشخص کنید.</p> 
۴	<p>اندازه ی یکی از زاویه های مثلثی ۵۴ درجه است. اگر دو زاویه ی دیگر ۴ به ۲ باشد، اندازه ی دو زاویه ی دیگر را به دست آورید.</p>
۵	<p>عزیزانم !!!! در شکل مقابل (الف د) نیمساز است. زاویه ی (ب الف م) چند درجه است؟</p> 
۶	<p>فرزندم !!!! نسبت زاویه های یک مثلث ۳، ۳ و ۴ است. اندازه ی هریک از زاویه های این مثلث را به دست آورید و نوع آن را مشخص بفرمایید.</p>

۷	<p>جاهای خالی را با عدد یا کلمه ی مناسب کامل کنید.</p> <p>❖ در هر متوازی الاضلاع، قطر ها یکدیگر را می کنند.</p> <p>❖ مجموع زاویه های یک مربع درجه می باشد.</p> <p>❖ متوازی الاضلاعی که تمام زاویه هایش با هم برابر باشد، نامیده می شود.</p> <p>❖ تعداد خط تقارن در چندضلعی های منتظم با تعداد برابر است.</p>
۸	<p>قرینه ی شکل زیر را نسبت به نقطه ی «م» رسم کنید.</p> 
۹	<p>مثلی رسم کنید که فقط یک خط تقارن داشته باشد.</p>
۱۰	<p>مستطیلی رسم کنید که اندازه ی قطر های آن ۶ سانتی متر و زاویه ی بین آن ها ۳۸ درجه باشد.</p>

مادر با شیر .

به جای این که سعی می کنید مرد موفقیت ها باشید، سعی کنید مرد ارزش ها باشید.

بازخورد والدین:

بازخورد آموزگار: